



## **2º TRIMESTRE**

**ESCOLA MUNICIPAL ARTHUR DA COSTA E SILVA.**

**TURMA: SALA DE RECURSOS MULTIFUNCIONAL**

**GRUPO 2**

**ALUNO(A): \_\_\_\_\_**

**PERÍODO DE REALIZAÇÃO: DE 23 A 27 DE AGOSTO**

**COMPONENTES CURRICULARES: ARTE - LÍNGUA PORTUGUESA –  
MATEMÁTICA**

### **Prezados Pais e responsáveis!**

Estamos realizando o 25º roteiro de atividades. Como já sabem os alunos já retornaram para a escola de forma escalonada divididos em três grupos por turma para que todas as medidas de segurança sejam cumpridas. Os pais que não autorizaram o retorno das crianças e desejam que elas voltem ao convívio escolar, podem vir até a escola e assinar a autorização para que a professora possa inseri-los nos grupos.

**Professora: Josiane**

#### **COMO VAMOS ESTUDAR OS CONTEÚDOS?**

POR MEIO DAS ATIVIDADES ENVIADAS PELA PROFESSORA VIA WHATS APP A SEREM REALIZADAS NO ROTEIRO

#### **COMO VAMOS REGISTRAR O QUE APRENDEMOS?**

POR MEIO DA LEITURA E REGISTRO NO PRÓPRIO ROTEIRO.

## PARA QUÊ VAMOS ESTUDAR ESSES CONTEÚDOS?

- ORGANIZAR SÍLABAS PARA FORMAR PALAVRAS E FRASES
- LOCALIZAR IMAGENS E NOMEÁ-LAS
- REALIZAR LEITURA DE PALAVRAS E FRASES
- CLASSIFICAR OBJETOS SEGUINDO ORDEM
- REALIZAR CÁLCULO MENTAL
- DIFERENCIAR NÚMEROS PARES E ÍMPARES

### ATIVIDADE 1

DESEMBARALHE AS SÍLABAS E FORME AS PALAVRAS, DEPOIS ESCOLHA UMA PARA FORMAR UMA FRASE BEM BONITA:

FIGURA	SÍLABAS	ESCRITA
	CO JA RU	
	CO SU	
	RE CE JA	
	LO VA CA	
	LA PA NE	

---

---

---

MARQUE COM UM X NA RESPOSTA CERTA:



- BOLA
- PETECA
- BONECA
- PIÃO

- FOCA
- TOCA
- BOCA
- BOTA



- MACACO
- MALA
- MOCACA
- MACCAO

- CANECA
- PETECA
- BONECA
- PANELA



DITADO DE LETRAS:

- P R S
- N T L
- V A C
- G U Q

Este desenho começa com a letra:

- C
- S
- A
- N




Marque o nome do desenho



- BLAO
- BOAL
- BOLA
- BAOL


O PATO NADA NO RIO

- 2
- 3
- 4
- 5



ATIVIDADE 3

VAMOS AJUDAR A MÔNICA A ENCONTRAR OS CINCO DESENHOS EM DESTAQUE E CIRCULAR!



AGORA VAMOS ESCREVER O NOME DOS DESENHOS ENCONTRADOS:

---


---

---

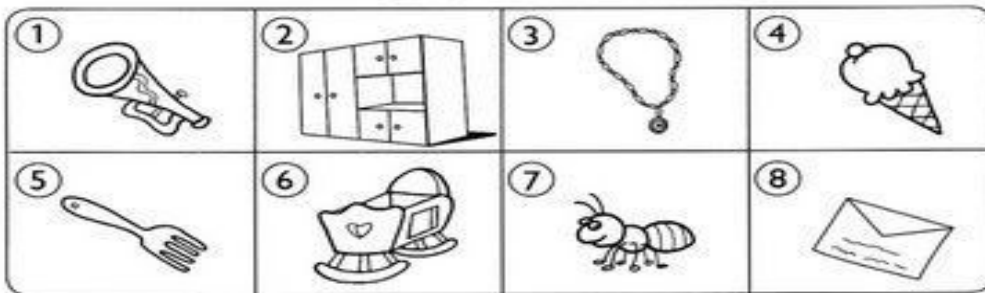
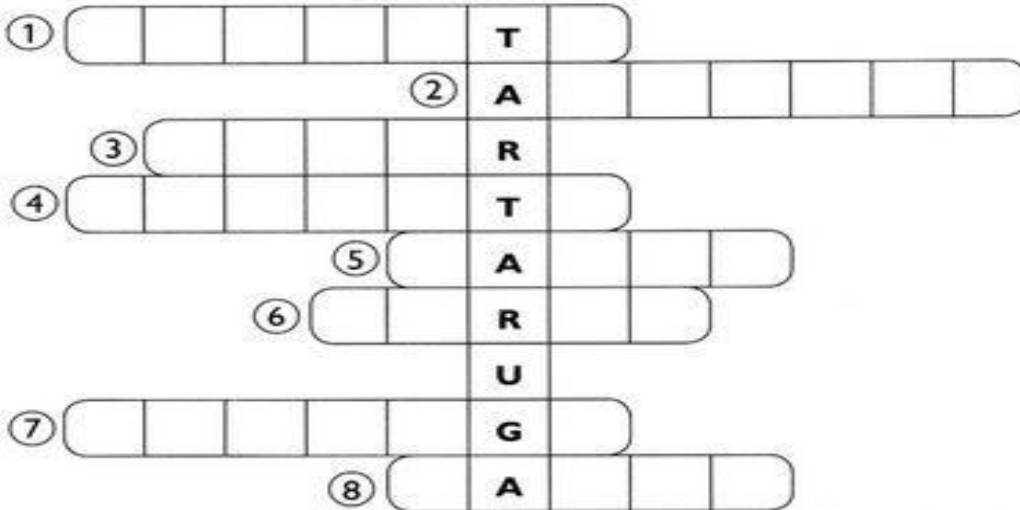
---

---

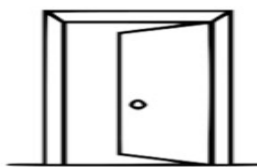
ATIVIDADE 4



1) Escreva, na cruzada, os nomes dos desenhos abaixo, de acordo com os numerais.



ENCONTRE OS NOMES DOS DESENHOS NO DIAGRAMA ABAIXO.



LAN	TER	NA	MI	LA	MA	UR
PO	E	TA	MI	GAR	CA	SO
LI	PU	RE	MAR	TA	LO	BO
MA	CIR	CO	RA	TA	BI	LA
QUE	AS	NO	ER	VI	LHA	NHO
U	POR	TA	LAN	CI	A	PO



## ATIVIDADE 5



OS OBJETOS DO JARDIM DO VOVÔ ESTÃO MISTURADOS COM OS DA COZINHA DA VOVÓ. VOCÊ É CAPAZ DE SEPARÁ-LOS?

COLOQUE  1 PARA OS OBJETOS DE COZINHA DA VOVÓ

COLOQUE  2 PARA OS OBJETOS DE JARDIM DO VOVÔ

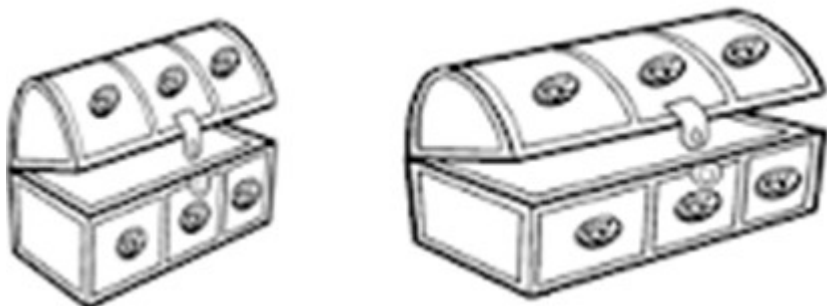


## ATIVIDADE 6


PINTE O OBJETO GRANDE, CIRCULE O PEQUENO E LIGUE OS DE TAMANHO IGUAL:



CIRCULE O BAÚ MAIS LARGO:



DESCUBRA O OBJETO INTRUSO EM CADA GRUPO RISCANDO-O E DEPOIS ESCREVA O NOME DAS FIGURAS :



ATIVIDADE 7

◆ AJUDE XAVECO A PINTAR O RESULTADO CORRETO DE CADA ADIÇÃO.



$9+3$ 

13	12	16	15	20
----	----	----	----	----

$10+8$ 

16	20	18	14	19
----	----	----	----	----

$9+6$ 

15	14	12	10	21
----	----	----	----	----

$14+7$ 

16	21	18	25	30
----	----	----	----	----

$20+2$ 

25	17	22	19	29
----	----	----	----	----

$12+1$ 

15	25	13	25	14
----	----	----	----	----

◆ QUAL MAIOR RESULTADO ENCONTRADO?

\_\_\_\_\_

◆ QUAL MENOR RESULTADO ENCONTRADO?

\_\_\_\_\_

◆ ESCREVA ABAIXO OS NÚMEROS ENCONTRADOS NO RESULTADO

PARES \_\_\_\_\_

ÍMPARES \_\_\_\_\_